

OLIMPIADA GEOGRAFÍA

IX OLIMPIADA DE GEOGRAFIA DE ESPAÑA
II OLIMPIADA DE GEOGRAFÍA DE ASTURIAS

Nombre		
Apellidos		
D.N.I.		
I.E.S.		
Marque con una "X" la respuesta que considere correcta	Puntuación	

1. ¿Cuál de estas sierras forma parte del Sistema Central?

- a) Sierra de la Demanda
- b) Sierra de Segura
- c) Sierra Nevada
- d) Sierra de Gredos

2. ¿Dónde se encuentra el nacimiento del río Navia?

- a) En León
- b) En Navia
- c) En Galicia
- d) En los Picos de Europa

3. Según la orientación del trabajo y el tipo de recursos, el aprovechamiento agrario se divide en:

- a) Secano o regadío
- b) Pastoril o turístico
- c) Intensivo o extensivo
- d) Agrícola o ganadero

4. ¿Cuál es la ciudad con mayor población de Asturias?

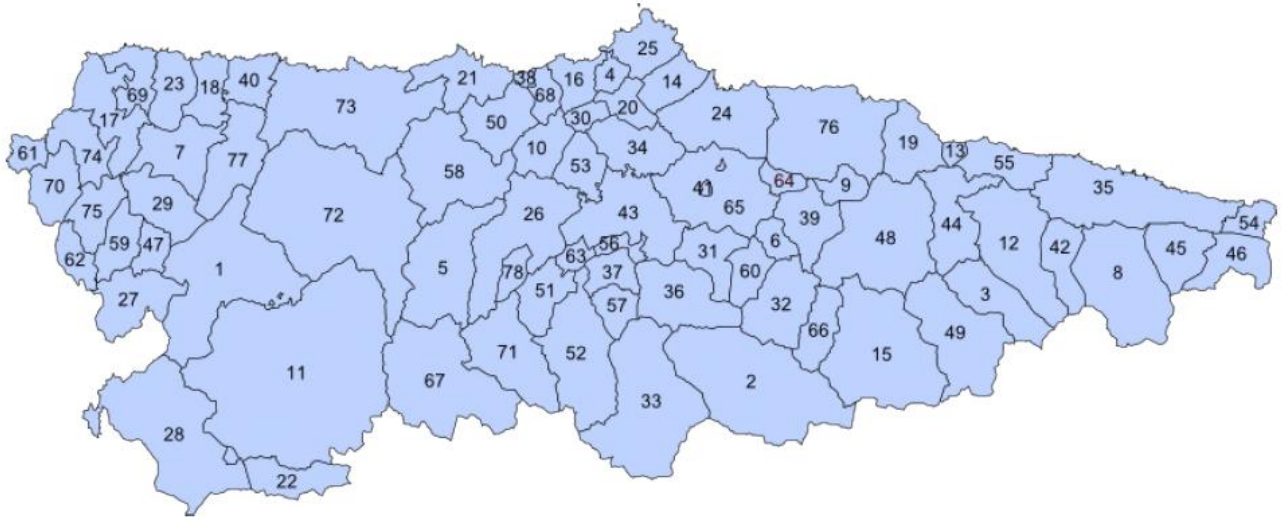
- a) Gijón
- b) Oviedo
- c) La Corredoria
- d) Avilés

5. ¿Cómo se llama el viento seco y frío característico del valle del Ebro?

- a) Cierzo
- b) Nordés
- c) Foehn / Föhn
- d) Alpino

6. ¿Cuál de las siguientes unidades morfoestructurales puede calificarse como "horst"?

- a) Sistema Central
- b) Teide
- c) Rasa costera cantábrica
- d) Valle del Guadalquivir



7. ¿Cuál es el municipio de mayor tamaño de Asturias (número 11 en el mapa)?

- a) Onís
- b) Valdés
- c) Cangas del Narcea
- d) Tineo

8. Indica la respuesta correcta:

- a) 8 - Cabrales, 28 - Ibias, 67 - Somiedo
- b) 73 - Navia, 35 - Llanes, 15 - Aller
- c) 8 - Onís, 43 - Langreo, 33 - Degaña
- d) 11 - Tineo, 54 - Castropol, 17 - Vegadeo

9. ¿En qué municipio del mapa se encuentra el Campus Universitario del Milán?

- a) Número 34
- b) Número 24
- c) Número 43
- d) Número 53

10. ¿Cuál es el Concejo más occidental de Asturias (número 61 en el mapa)?

- a) Ribadedeva
- b) Castropol
- c) San Tirso de Abres
- d) Santa Eulalia de Oscos

11. ¿Cuál es el significado de la palabra estuario?

- a) Ancha boca de río donde la configuración del cauce permite que el mar penetre, sobre todo con la marea alta
- b) Espacio costero
- c) Desembocadura de un río amplio y profundo que intercambia con el mar agua salada y dulce debido a las mareas
- d) A y C son correctas

12. ¿Cuál de las siguientes opciones no se corresponde con las principales especies vegetales del bosque caducifolio?

- a) Castaño
- b) Haya
- c) Roble
- d) Encina

13. La política de transportes en la Unión Europea pretende:

- a) Conectar todas las grandes capitales con Berlín, fomentar las conexiones con Norte América y Japón, y desarrollar un sistema de transportes sostenible
- b) Equilibrar los modos de transporte, establecer conexiones transeuropeas y fomentar un sistema de transporte sostenible
- c) Mejorar las carreteras de los nuevos países miembros con los fondos para la política agraria común
- d) Potenciar el transporte marítimo a larga distancia y priorizar el uso del transporte aéreo frente a un transporte intermodal

14. Los problemas principales del transporte en España son:

- a) Mala calidad de carreteras y demasiadas conexiones entre la periferia; el transporte aéreo tiene demasiado peso frente a otros modos de transporte
- b) El medio físico es demasiado accidentado y se hace imposible llegar a Madrid; el transporte marítimo tiene demasiado peso frente a otros modos de transporte
- c) Las redes de transporte son radiales, el transporte por carretera tiene demasiado peso frente a otros modos de transporte y la conexión internacional ha de mejorar
- d) Ninguna es correcta

15. ¿Qué significa que un país tenga un crecimiento vegetativo negativo?

- a) La población crece a un ritmo lento
- b) Tiene una población envejecida, con más ancianos que niños
- c) Mueren más niños menores de un año de los que sobreviven
- d) Mueren más personas de las que nacen

16. El crecimiento natural se calcula a partir de:

- a) La población migrada en dos años de referencia
- b) Las migraciones (emigración e inmigración)
- c) La natalidad y la mortalidad
- d) La natalidad y la inmigración, mediante las cifras de población en dos años de referencia

17. ¿Qué proceso provocó el cambio de la fisonomía de las ciudades en el siglo XIX?

- a) Revolución industrial
- b) Reforma agraria
- c) Revoluciones sociales
- d) Aumento de la población neo-rural

18. ¿Cómo se denomina la representación gráfica de las ciudades que nos ayuda a estudiar su evolución a lo largo del tiempo?

- a) Nomenclátor
- b) Mapa
- c) Plano
- d) Ninguna es correcta

19. ¿Cuál es la Comunidad Autónoma de más extensión de España?

- a) Castilla-León
- b) Castilla-La Mancha
- c) Extremadura
- d) Andalucía

20. ¿Cuál de las siguientes ciudades contiene un ensanche de dimensiones considerables en su trama urbana?

- a) Luarca
- b) Gijón
- c) Oviedo
- d) Lugo de Llanera



21. ¿A qué ciudad asturiana pertenece la trama anterior?

- a) Llanes
- b) Avilés
- c) Sama de Langreo
- d) Gijón

22. ¿Cuál es el extremo más oriental de la Península Ibérica?

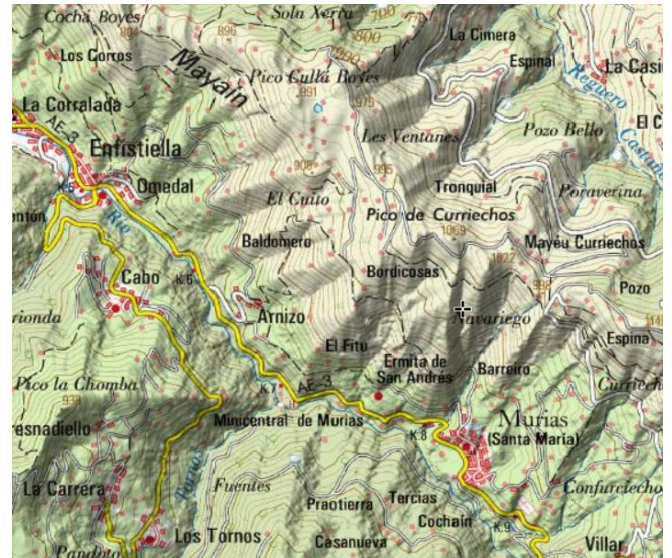
- a) Cabo de Gata
- b) Isla de Menorca
- c) Melilla
- d) Cabo de Creus

23. La curva sinuosa que dibuja un río se denomina:

- a) Terraza fluvial
- b) Rabión
- c) Meandro
- d) Remanso

24. ¿Cuál es el nombre del fenómeno que causa las lluvias torrenciales en los climas mediterráneos de la Península Ibérica en otoño?:

- a) Corriente de chorro o *Jet Stream*
- b) Frente Polar
- c) Gota Fría
- d) El Niño



25. ¿Qué tipo de mapa es el de la anterior imagen?

- a) Geológico
- b) Montañoso
- c) Topográfico
- d) Urbano

26. El área más sísmica de España es:

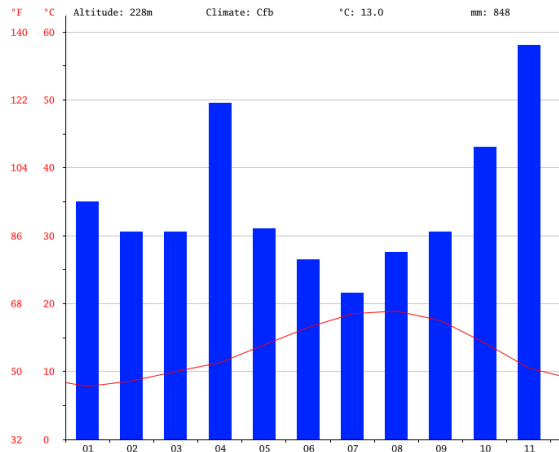
- a) Sureste
- b) Noreste
- c) Oeste
- d) Noroeste

27. ¿Qué medio de transporte mueve más personas y mercancías que ningún otro en la actualidad?

- a) El marítimo
- b) El aéreo
- c) El rodado por carretera
- d) El fluvial

28. ¿Cuál de las siguientes actividades se incluye en el sector primario?

- a) La artesanía
- b) La minería
- c) La manufactura
- d) La construcción



29. El anterior gráfico es un/a:

- a) Climograma
- b) Pentagrama
- c) Pirámide de población
- d) Indicador de consumo de agua

30. Los factores físicos del paisaje agrario son:

- a) El clima, la meteorología y la naturaleza del suelo
- b) El clima, la meteorología y el relieve
- c) El clima, la fauna y la flora
- d) El clima, el relieve y la naturaleza del suelo

31. La tasa de natalidad:

- a) Relaciona los nacimientos y el total de la población de un lugar
- b) Relaciona los nacimientos y el total de mujeres fértiles de un lugar
- c) Pone en relación los nacimientos y la fecundidad de un lugar
- d) Pone en relación la población activa y el uso de anticonceptivos en un lugar

32. El río Ibias, es afluente del río:

- a) Nora
- b) Navia
- c) Narcea
- d) Aller



33. El de la imagen, es el punto de mayor altitud de Asturias. ¿Cómo se llama?

- a) Naranjo de Bulnes / Picu Urriellu
- b) Monte Naranco
- c) Torre Cerredo
- d) Pico Torres

34.- ¿En qué año ingresó España en la Unión Europea? ¿Con qué otra nación lo hizo?

- a) En 1981, con Grecia
- b) En 1986, con Portugal
- c) En 1983, con Dinamarca
- d) En 1979, con Austria

35. Los ríos con régimen nival:

- a) Nacen en la alta montaña, donde son frecuentes las nevadas y registran su máximo caudal a finales de invierno
- b) Nacen en la alta montaña, donde las nevadas son escasas y registran su máximo caudal en verano
- c) Nacen en la alta montaña, donde son frecuentes las nevadas y registran su máximo caudal a finales de la primavera o verano
- d) Nacen en la alta montaña, donde las nevadas son frecuentes y registran su máximo caudal a finales del verano

36.- ¿Cuál de las siguientes afirmaciones no se corresponde con características típicas de la vegetación de ribera?

- a) Se trata de vegetación riparia
- b) Las principales especies vegetales son matorrales xerófilos
- c) El suelo donde se asienta la vegetación está formado por los propios aluviones depositados por el río
- d) Algunas de las especies más conocidas son Sauce, Aliso, Chopo y/o Álamo

37. ¿Qué actividad industrial no se localiza en el Área Central de Asturias?

- a) La industria petrolífera
- b) La producción de alto valor añadido
- c) La industria siderúrgica
- d) La industria alimentaria

38. ¿Cuál es el único Parque Nacional de Asturias?

- a) Somiedo
- b) Eo-Navia
- c) Fuentes del Narcea
- d) Picos de Europa

39. ¿A que nos referimos al hablar de La fracturación hidráulica, fractura hidráulica, estimulación hidráulica (también conocida por el término en inglés *Fracking*)?

- a) Es una técnica para posibilitar o aumentar la extracción de gas y petróleo del subsuelo
- b) Expresión acuñada en los años veinte en el seno de la Escuela de Meteorología de Bergen para clasificar los tipos de climas
- c) Tipo de tiempo caracterizado por la súbita elevación de los registros térmicos, que tornan extremos en las máximas
- d) Fragmentación de los primeros horizontes de suelo debido a la ausencia o escasez de lluvias en un período de tiempo prolongado

40.- Señala la afirmación correcta sobre el impacto ambiental de los sistemas de transporte:

- a) Los transportes generan un impacto ambiental asimilable, son daños colaterales que sustentan el Estado del Bienestar
- b) El impacto ambiental es uno de los principales problemas de los sistemas de transporte afectan a un gran número de especies, incluido el ser humano
- c) El daño a la flora y a la fauna debido a los transportes se ha reducido en más de 80% en los últimos años; debido a eso, por ejemplo, resulta raro ver un animal muerto en las carreteras
- d) El impacto ambiental del sistema de transporte sólo afecta al ser humano en cuanto a polución, contaminación acústica y paisajística

41.- Dentro de un sistema de referencia se utilizan coordenadas geográficas. ¿Qué es la latitud?

- a) Medida angular entre cualquier punto de la superficie terrestre y el Ecuador. Esta puede ser Norte o Sur y varía entre 0º y 90º
- b) Cálculo que mide el ángulo a lo largo del Ecuador desde cualquier punto de la Tierra
- c) Conjunto de parámetros que sirven de origen para realizar medidas en la Tierra
- d) Es una superficie curva cerrada cuyas tres secciones ortogonales principales son elípticas, es decir, son originadas por planos que contienen dos ejes cartesianos

42.- Hasta fechas recientes, España ha sido un país con natalidad media-alta en el contexto europeo. Pero en un período de tiempo muy corto, la natalidad y la fecundidad españolas se han situado entre las más bajas del mundo. ¿Por qué han disminuido tanto?

- a) La incorporación de la mujer al mercado laboral y la falta de conciliación con la vida familiar
- b) El coste de la educación y crianza de los hijos en el contexto de la sociedad de consumo
- c) El comportamiento natalista propio de las generaciones actuales
- d) Todas las anteriores son correctas

43. ¿Cuál es la capital de Finlandia?

- a) Jyväskylä
- b) Oslo
- c) Estocolmo
- d) Helsinki

44. ¿Dónde se encuentra la Selva Negra?

- a) En Finlandia
- b) En Brasil
- c) En el Congo
- d) En Alemania

45. ¿Cuál de las siguientes ciudades no es área urbana de primer orden?

- a) Sevilla
- b) Zamora
- c) Bilbao
- d) Zaragoza

46. ¿A qué país pertenece Gibraltar?

- a) España
- b) Reino Unido
- c) Marruecos
- d) Portugal

47.- Si hablamos de las consecuencias de las migraciones exteriores, ¿cuál de las siguientes opciones es una consecuencia negativa?

- a) La reducción de la presión en el mercado laboral: gracias a la emigración se alivia el volumen de la población en paro
- b) Los costes demográficos que suponen la pérdida de población joven en las regiones migratorias, que provocaría el envejecimiento de la población y la caída de la fecundidad
- c) La entrada de divisas
- d) A y C son correctas

48. ¿Qué consecuencias traen a la Península Ibérica los centros de acción subtropicales norteafricanos?

- a) Precipitaciones en el Sur peninsular
- b) Aire cálido y húmedo
- c) Olas de calor y sequía en verano
- d) Gota fría en el Mediterráneo

49. ¿Qué es el Ter?

- a) Un pico de Cantabria
- b) Un árbol caducifolio
- c) Un río que nace en el Pirineo
- d) Un animal en peligro de extinción

50. El río más caudaloso de España:

- a) Ebro
- b) Tago
- c) Guadalquivir
- d) Nalón